

# CHÂTEAU DE L'ISLETTE


## LIVRET SCOLAIRE – CYCLE 2

Bienvenue à l'Islette !

Je m'appelle Blanche, je suis une oie de Touraine et je vis ici,  
au château de l'Islette.

Ce cahier va t'aider à visiter le château... en ma compagnie bien sûr.  
Pendant notre promenade, tu auras des questions à compléter ou des jeux à  
réaliser. Il faut simplement que tu réfléchisses et que tu prennes le temps  
d'observer ce qui t'entoure. Maintenant, à toi de jouer !

Partons ensemble à la découverte de l'Islette.



PRÉNOM : .....

NOM : .....

CLASSE : .....

## 1

## Autour du château

**L'EAU EST UN ÉLÉMENT TRÈS IMPORTANT À L'ISLETTE**

Avant d'arriver au château, tu dois traverser un pont qui enjambe la rivière. Cette rivière parcourt le domaine sur 1 km. C'est un **affluent** de la Loire, ce célèbre fleuve au long duquel de nombreux rois ont fait construire leur château à la Renaissance.

**Un affluent :**

Un affluent est un cours d'eau qui se déverse dans un autre cours d'eau ou un lac, souvent de plus grande importance. Par exemple : une rivière dans un fleuve.




Quel poisson peux-tu trouver ici dans la rivière ?

Entoure la bonne réponse.

Une baleine



Un dauphin



Une carpe





À gauche du pont se trouve un ancien **moulin**. Après la guerre de 1939 à 1945, il a été transformé en maison pour y vivre.

Autrefois, les paysans devaient utiliser ce moulin pour transformer le **\*\*\*\*\*** en farine en échange d'argent qu'ils donnaient au propriétaire de moulin.

Mélange les lettres pour retrouver le mot mystère !

**G A R N I**

— — — — —

Indice :



**Un moulin :**

Peut être à eau ou à vent. C'est une machine à moulin les grains de céréales.

## 2

## L'architecture du château

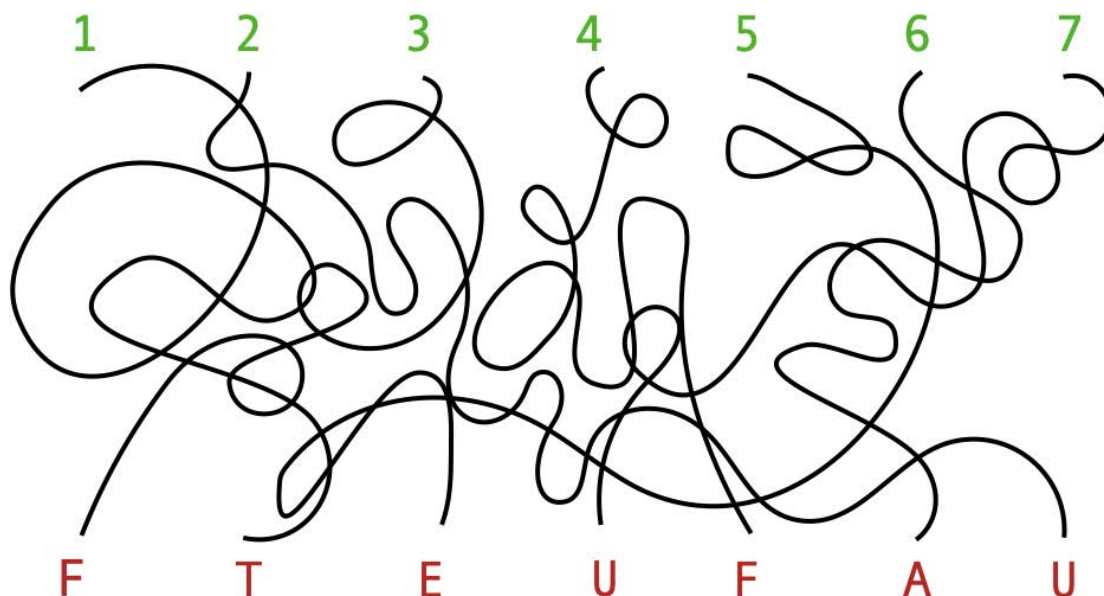


Nous sommes devant la façade **nord** du château.  
Regarde, deux édifices se distinguent : le **logis seigneurial** et le **château**.

Le logis seigneurial est la partie la plus ancienne du château. Il date de la fin du Moyen-Âge.


Le logis seigneurial est construit avec deux matériaux, la brique rouge et le **\*\*\*\*\*** blanc. Le mélange des deux matériaux crée un joli motif, très à la mode à l'époque.

Pour trouver en quelle pierre spécifique de la région le logis seigneurial a été construit, relis chaque chiffre à sa lettre correspondante :




-----

Rends-toi devant la façade **sud** du château pour découvrir les caractéristiques de l'architecture de cette époque.



Le château, construit à la **Renaissance**, reflète l'architecture de l'époque. Observe les différentes caractéristiques listées ci-dessous.

- des fenêtres à meneaux :  
Le meneau désigne l'élément permettant la séparation de la fenêtre en différente section.



- des moulures horizontales formant un bandeau séparant les différents étages.



- un **\*\*\*\*\*** Renaissance avec des motifs typiques de la période.

Qu'est-ce ?



-----

## 3

## La salle des gardes



De nos jours la salle des gardes expose des documents sur Camille Claudel et Rodin, deux célèbres \*\*\*\*\* du XIXème siècle qui ont séjourné à plusieurs reprises au château de l'Islette au début des années 1890.

Pour découvrir le métier de Camille Claudel et Rodin, aide-toi de l'alphabet codé afin de reconstituer le mot juste en dessous.



-----

C'est à l'Islette que ces deux célèbres artistes ont créé certaines de leurs plus grandes œuvres. Tu auras l'occasion de découvrir 2 œuvres de Camille Claudel un peu plus tard dans la visite.

## 4

Les chambres du 1<sup>er</sup> étage

Nous sommes dans la *grande chambre*, dans la tour du

château. Une pièce  dans une tour  !

L'avais-tu remarqué ?

La *plus petite des chambres* fait partie de la partie la plus ancienne du château : le logis seigneurial. De quelle époque date-t-elle ?

Pour le savoir, résous la charade suivante :



Mon premier divise le calendrier en 12



Mon deuxième est un animal de la savane, que l'on voit dans le dessin animé « Le roi lion »



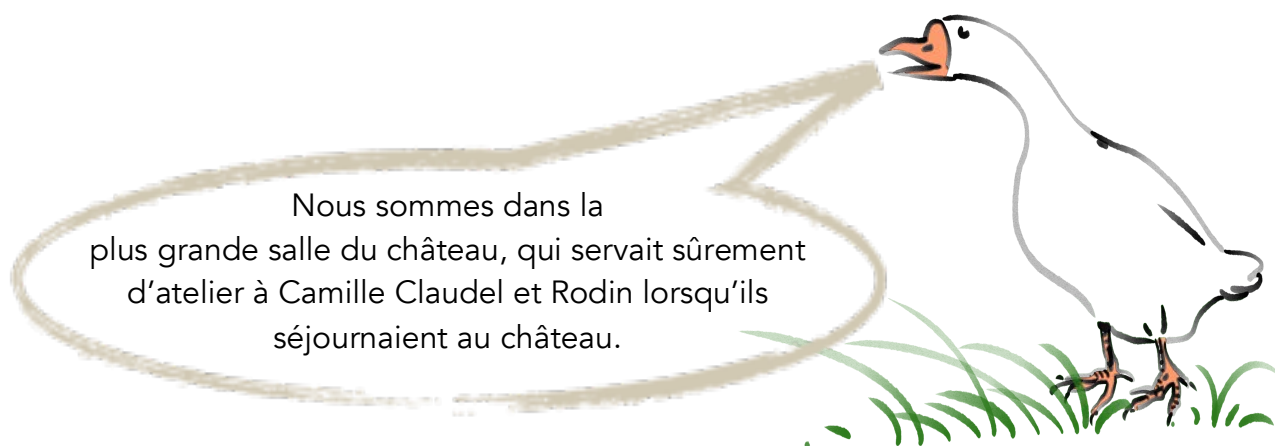
Mon troisième augmente chaque année à ma date d'anniversaire.

Mon tout est une période de l'histoire :




## 5

## La Grande Salle



On peut observer de très beaux décors peints sur le **plafond**, la **cheminée** et sur les **boiseries** en bas des murs. Certains éléments sont beaucoup représentés : la rivière, les fleurs, les fruits. Les as-tu repérés ?

Regardons plus en détails la **cheminée** : De chaque côté du tableau au centre de la cheminée, des petites peintures représentent des **\*\*\*\*\*** : la justice, la force, la foi et l'espérance. Aide-toi des dessins afin de reconstituer le mot mystère.




-----




## 6

## La salle à manger &amp; la cuisine



À l'époque de la Renaissance, la salle à manger et la cuisine correspondaient aux appartements du seigneur de l'Islette. Plusieurs **indices** nous permettent de le savoir.

Dans la salle à manger, un élément n'est pas centré au milieu du mur, pour laisser un espace suffisant à côté afin d'accueillir un lit. De quoi s'agit-il ?



-----

Avant d'être une cuisine, cette pièce avait une autre fonction. Pour trouver laquelle, sers-toi de l'alphabet inversé :

A	B	C	D	E	F	G	H	I	J	K	L	M	N	O	P	Q	R	S	T	U	V	W	X	Y	Z
Z	Y																								

T Z I W V - I L X V

-----

## 7

## Les jardins

Il existe plusieurs styles de jardins. À l'Islette nous avons la chance d'avoir deux styles de jardins, ceux à la **française** et ceux à l'**anglaise**.




### Un parc à l'anglaise :

Il se caractérise par un aspect sauvage, poétique et romantique de la nature.

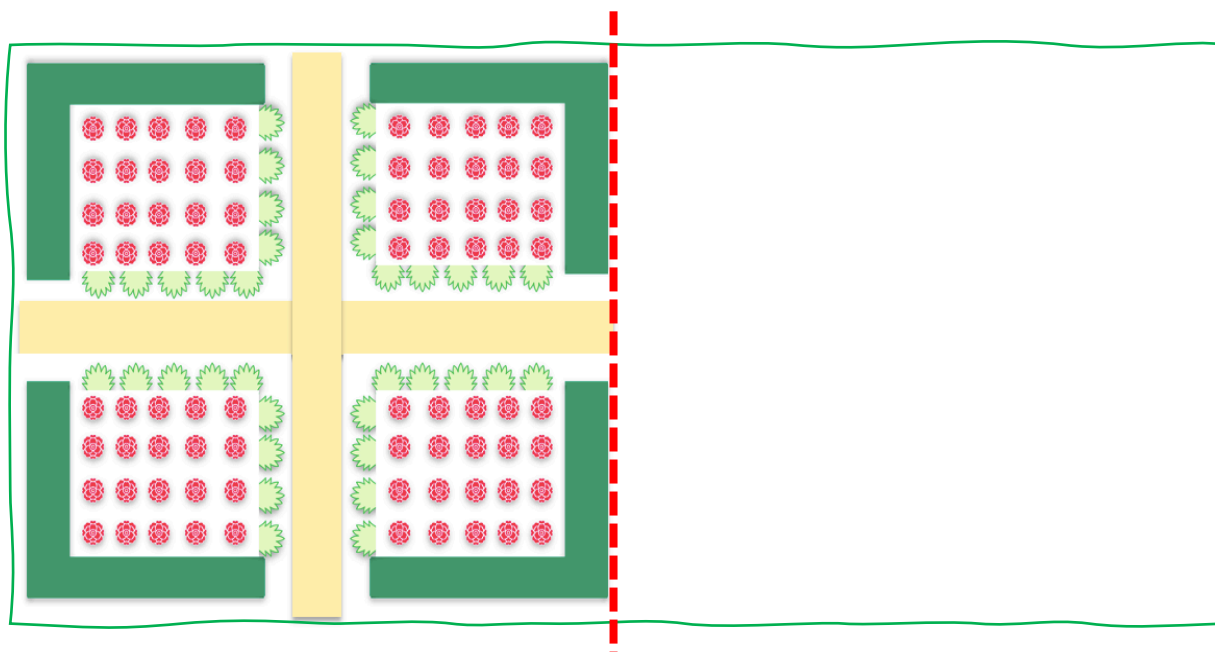


### Un jardin à la française :

Ils se caractérisent par leur aspect géométrique et symétrique.



Complète le dessin du jardin ci-dessous en utilisant la symétrie verticale :





La visite est maintenant terminée !  
 Je suis ravie d'avoir pu te faire découvrir ma demeure !  
 Voilà un dernier petit jeu pour toi : relie les points en suivant les numéros et découvre le dessin qui apparaît !

The image shows a dot-to-dot puzzle with 22 numbered dots. The dots are arranged in a pattern that, when connected, forms a swan. The dots are colored as follows:

- Green dots: 1, 2, 3, 4, 5, 6, 7, 8, 9, 10, 11, 12, 13, 14, 15, 16, 17, 18, 19, 20, 21, 22
- Blue dots: 1, 2, 3, 4, 5, 6, 7, 8, 9, 10, 11, 12, 13, 14, 15, 16, 17, 18, 19, 20, 21, 22
- Orange dots: 1, 2, 3, 4, 5, 6, 7, 8, 9, 10, 11, 12, 13, 14, 15, 16, 17, 18, 19, 20, 21, 22
- Purple dots: 1, 2, 3, 4, 5, 6, 7, 8, 9, 10, 11, 12, 13, 14, 15, 16, 17, 18, 19, 20, 21, 22